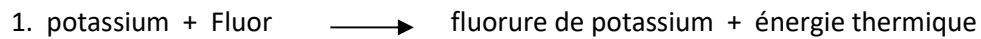
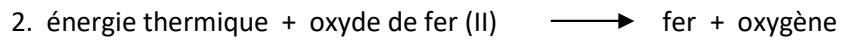


Devoir #5 – Types de réaction chimique

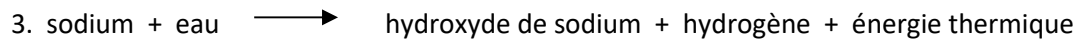
Complétez les équations chimiques balancées suivantes et indiquez quel type de réaction



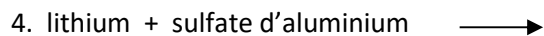
Type de réaction : _____



Type de réaction : _____



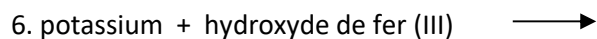
Type de réaction : _____



Type de Réaction : _____



Type de Réaction : _____



Type de Réaction : _____



Type de Réaction : _____